

ЗАТВЕРДЖАЮ

Першы намеснік начальніка
галоўнага ўпраўлення
па адукацыі Магілёўскага
аблвыканкама

І.Г.Лашкевіч

«20» сакавіка 2023 г.

ЗАДАННІ

для правядзення гарадскіх, раённых алімпіяд
по вучэбным прадмеце «Сусветная гісторыя»

Дата правядзення: 28.03.2023 г.

Час выканання заданняў: 10.00 – 11.30.

V клас

I. Выберыце правільны варыянт.

Адказ запішыце у клеткі табліцы.

Каму належыць выказванне: «Чалавек можа зрабіць шлях вялікім, але не шлях
робіць чалавека вялікім»

а) Канфуцый б) Буда в) Маісей.

1. Атрад воінаў-іншаземцаў падайшоў да ракі. Воіны паглядзелі на бягучую
ваду і ў здзіўленні замахалі рукамі. «Не можа быць! Гэта ж рака, бягучая
наадварот!» Якая рака так здзівіла егіпцян:

а) Ніл б) Тыгр в) Еўфрат.

2. Шадуф – гэта:

а) прыстасаванне, з дапамогай якога егіпцяне падымалі ваду на палі;

б) ахвярапрынашэнне багам;

в) арашальны канал.

3. Гістарычная навука, якая вывучае побыт, норавы і культуру народаў
зямнога шара, іх рассяленне і ўзаемаадносіны-гэта:

а) этнаграфія; б) гісторыя; в) міфалогія.

4. Праадзімай чалавецтва лічыцца:

а) Усходняя Афрыка; б) Цэнтральная Афрыка; в) Заходняя Еўропа.

6. Рысуначнае пісьмо, знакі якога абазначаюць намаляваныя імі прадметы:

а) іерогліфы; б) піктаграмы; в) клінапісь.

7. Рэлігія, заснаваная на глыбокай пашане шматлікім багам:

а) хрысціянства; б) будызм; в) язычніцтва.

8. Сынам Неба ў Кітаі называлі:

а) імператара; б) чыноўніка; в) селяніна

9. Першым царом Рыма быў:

а) Нерон; б) Рэм; в) Ромул.

10. Сталіца Асірыйскай дзяржавы: а) Ніневія; б) Вавілон; в) Лагаш.

Адказ

1.	2.	3.	4.	5.	6.	7.	8.	9.	10.
----	----	----	----	----	----	----	----	----	-----

II. Суаднясіце:

1) імены кіраўнікоў з характарыстыкай іх дзейнасці:

1. Аляксандр Македонскі	А. Стварыў першую ў гісторыі пастаянную армію з прафесійных лучнікаў і пешых воінаў.
2. Саламон	Б. Стварыў законы, абавязковыя для ўсіх жыхароў дзяржавы.
3. Хамурапі	В. Загадаў пабудаваць самую вялікую сцяну ў свеце.
4. Саргон Акадскі	Г. Пабудаваў першы храм у Іерусаліме.
5. Цынь Шыхуандзі	Д. Здзейсніў ваенны паход у Індыю.

Адказ

1.	2.	3.	4.	5.
----	----	----	----	----

2) краіну з гістарычнай асобай:





1. Егіпет	А. Салон
2. Індыя	Б. Тутмас III
3. Македонія	В. Дарый I
4. Грэцыя	Г. Ашока
5. Персія	Д. Філіп II

Адказ

1.	2.	3.	4.	5.
----	----	----	----	----

3) багоў Егіпта з іх выявай:

А) Багіня Бастэт; Б) Багіня Сохмет; В) Бог Тот; Г) Бог Анубіс

 1.	 2.	 3.	 4.
---	---	--	---

Адказ

1.	2.	3.	4.
----	----	----	----

4) імя палкаводца і бітва, у якой ён удзельнічаў:

1) Аляксандр Македонскі	а. бітва пры Херонеі;
2) Ганібал	б. Марафонская бітва;
3) Кір Вялікі	в. Саламінская бітва;
4) Мільтыяд	г. бітва пры Мегіда;
5) Сцыпіён	д. заваяванне Вавілона ў 539 г. да н.э.;
6) Тутмас III	е. бітва пры Гаўгамелах
7) Фемістокл	ж. заваяванне Заальпійскай Галіі
8) Філіп II Македонскі	з. бітва пры Канах;
9) Цэзар	і. бітва каля г. Зама.

Адказ

1.	2.	3.	4.	5.	6.	7.	8.	9.
----	----	----	----	----	----	----	----	----

III. Па геаграфічных аб'ектах вызначыце краіну. Выкрасліце са спісу лішняе.

1. Махенджо-Дара, Ганг, Паўднёвая Азія, Малая Азія, Сарасваці. **Краіна (адказ)**_____

2. Мэмпіс, Тыгр, Паўночна-Усходняя Афрыка, Ніл, Дэльта, бераг Міжземнага мора. **Краіна (адказ)**_____

3. Цір, Хараппа, Усходняе ўзбярэжжа Міжземнага мора, Бібл, Бейрут. **Краіна (адказ)**_____

4. Пярэдня Азія, Еўфрат, Хуанхэ, Вавілон, Персідскі заліў. **Краіна (адказ)**_____

5. Атыка, Балканскі паўвостраў, Пелапанес, Спарта, Палесціна, Афінны. **Краіна (адказ)**_____

IV. Пастаўце падзеі ў храналагічнай паслядоўнасці (гэта значыць ад тых, што здарыліся раней, да тых, што здарыліся пазней).

1. А) з'яўленне неандэртальца; Б) узнікненне першых дзяржаў;
В) з'яўленне краманьёнца; Г) зараджэнне выяўленчага мастацтва.

Адказ:_____

2. А) Траянская вайна; Б) Будаўніцтва пірамід у Гізе; В) Бітва пры Кадэшы паміж егіпцянамі і хетаі; Г) Заключэнне першага вядомага ў гісторыі дагавора "Аб міры і дружбе».

Адказ:_____

3. А) бітва пры Ісе; Б) бітва пры Гаўгамелах; В) паход у Індыю; Г) бітва пры Граніке.

Адказ:_____

4. А) каліеў мір; Б) бітва пры Платэях; В) бітва каля вострава Саламін; Г) бітва пры Марафоне.

Адказ:_____

V. Вырашыце гістарычную задачу.

Першае ўпамінанне пра горад Магілёў адносіцца да 1267 года. Спарта ўзнікла ў X ст. да н. э. 1) Колькі стагоддзяў аддзяляюць гэтыя падзеі? 2) Запішыце адказ рымскімі лічбамі. 3) Стварыце стужку часу і на ёй адзначце гэтыя падзеі.

Адказ:

- 1) _____;
- 2) _____;
- 3) _____.

VI. Устаўце ў тэкст прапушчаныя словы і адкажыце на пытанні:


1. Пра што напісаў у сваім вершы Антыпатр з Сідона ў II стагоддзі да н. э.?
2. Што важнае аўтар НЕ ўбачыў?

Видел я стены твои, Вавилон, на которых просторно
И колесницам; видал 1. _____ в Олимпии я.
Чудо 2. _____ садов Вавилона, колосс 3. _____
И 4. _____ – дела многих и тяжелых трудов;
Знаю 5. _____ гробницу огромную. Но лишь увидел
Я 6. _____ чертог (храм), кровлю вознесший до туч.
Все остальное померкло пред ним; вне пределов Олимпа
Солнце не видит нигде равной ему красоты.

Адказ на першае пытанне: _____

Адказ на другое пытанне: _____

VII. Разгледзьце ілюстрацыі і назавіце гістарычную асобу па апісанні






1.









Страсны старажытнагрэчаскі падарожнік. Ён наведаў Фінікію, Сірыю, Егіпет, Вавілон, Македонію, Грэчаскую калонію Ольвію ў Паўночным Прычарнамор'і.

Цыцэрон назваў яго "бацькам гісторыі". Назавіце гэтага навукоўца.

Адказ _____

 <p>2.</p>	<p>Гэты старажытнагрэцкі мудрэц вядомы сучаснікам як удзельнік Пелапанэскай вайны, філосаф, які стварыў сваю навуковую школу. Сваіх паслядоўнікаў ён вучыў, што чалавек павінен жыць па законах дабра і справядлівасці, імкнуцца да самаўдасканалення. Асуджаны на смерць, ён застаўся верны сваім прынцыпам - не парушаць законаў, не адказваць несправядлівасцю на несправядлівасць – і адмовіўся ад падрыхтаваных яго сябрамі ўцёкаў. Ён выпіў чару з атрутай і памер непахісным. Хто ён? Адказ: _____</p>
 <p>3.</p>	<p>Адзін з "сямі грэчаскіх мудрацоў"» Вядомы як выдатны рэфарматар Афін. Яго рэформы былі накіраваны на абарону інтарэсаў свабодных земляробаў, а таксама супраць пераваг радавой арыстакратыі ў справах кіравання дзяржавай. Ён забараніў даўгавое рабства. Пры яго кіраванні вышэйшым органам улады ў Афінх стаў Народны сход. Адказ _____</p>
 <p>4.</p>	<p>Гэтага персідскага цара называлі "вялікім царом". Ён кіраваў з 522 да 486 г.да н. э. Сваю велізарную дзяржаву («краіну краін»), якая мела некалькі сталіц, «Цар цароў» падзяліў на сатрапіі. Пры ім была створана першая пошта ў свеце для таго, каб загады цара хутчэй даходзілі да аддаленых абласцей. Адказ _____</p>
 <p>5.</p>	<p>Пры ім Кітай стаў адзінай дзяржавай, ён – яго першым уладаром. Па загадзе гэтага імператара была пабудавана велізарная сцяна, якая ўвайшла ў гісторыю пад назвай «Вялікая Кітайская сцяна». Адказ _____</p>

VIII. Стварыце 4 пары гістарычных помнікаў (у кожнай з пар помнікі адной краіны).

А. 	Б. 	В. 	Г. 
Д. 	Е. 	Ж. 	И. 
1-я пара -	2-я пара -	3-я пара -	4-я пара -

IX. Прачытайце тэксты і адкажыце на пытанні.

1. У адным з апавяданняў расказваецца аб тым, як Афінскі земляроб Арыстон трапіў у даўгавую кабалу да багатага Лікурга, які даў яму ў доўг пяць мер збожжжа, а запатрабаваў вярнуць ужо 40 мер. Селянін не мог выплаціць доўг і быў вымушаным бегчы ў іншую краіну.

1) Што пагражала афінскаму селяніну ў выпадку нявыплаты доўгу багачу?

2) Хто такі Салон?

3) Як рэформы Салона звязаны з гэтым выпадкам?

2. У "Іліядзе" расказваецца пра тое, што самым моцным сярод грэчаскіх юнакоў быў "хутканогі" Ахіл. Яму было прадказана, што ён праславіць радзіму вялікімі подзвігамі ў вайне з Трояй, але загіне маладым.

1) Ці адбылося гэта прадказанне? (адкажыце "так" ці "не") _____

2) Як маці Ахіла хацела зберагчы сына ад бяды?

3) 3) Які крылаты выраз ўзнік ў сувязі з гэтым міфам?

4) 4) Растлумачце сэнс гэтага крылатага выразу.
